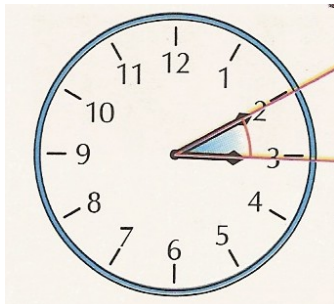


Meno : \_\_\_\_\_


Dátum : \_\_\_\_\_

# Uhly

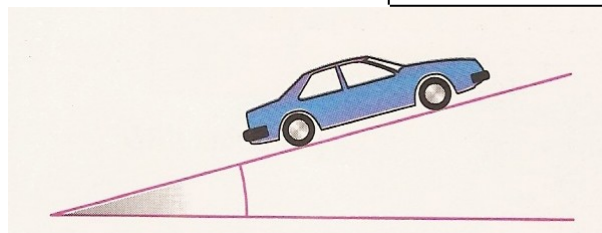
1. Na základe obrázkov skúste vymenovať ďalšie prípady zo života, kde sa stretávame s uhlami.



uhol malej ručičky s veľkou ručičkou



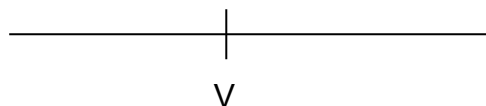
uhol sklápača



uhol stúpania cesty

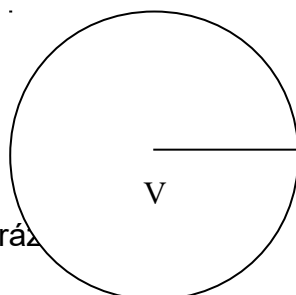
2. Z koľkých pravých uhlov sa skladá : a, priamy uhol,  
b, plný uhol ?

a,



Priamy uhol sa skladá z  pravých uhlov.

b,

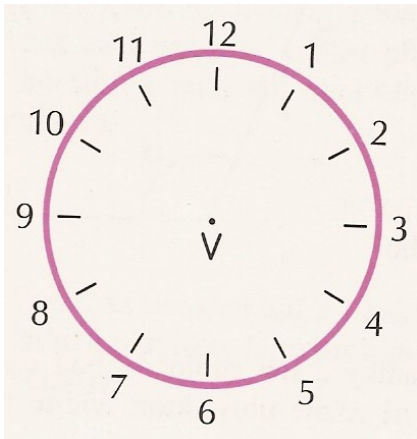


Plný uhol sa skladá z  pravých uhlov.

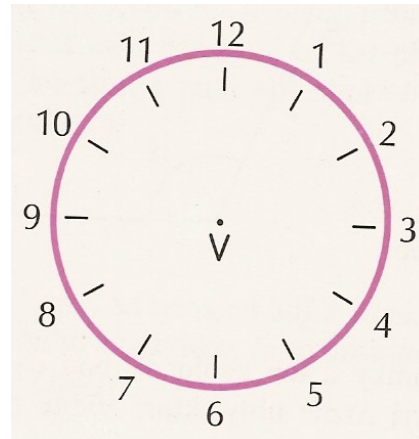
3. Na obráz

- a, vyznačte farebne uhol, ktorý opíše malá ručička od jednej hodiny po tretiu hodinu,  
 b, vyznačte uhol, ktorý opíše malá ručička od tretej hodiny po deviatu hodinu.

a,

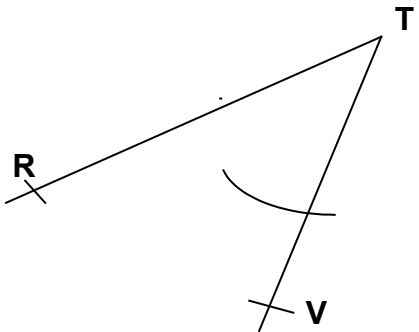


b,



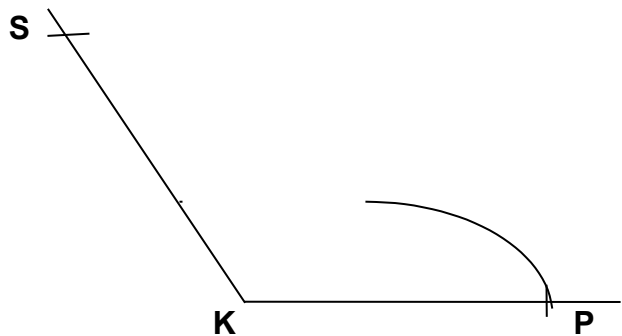
4. Na obrázku sú nakreslené uhly. Určte, ktorý zápis uhla je správny :

a,



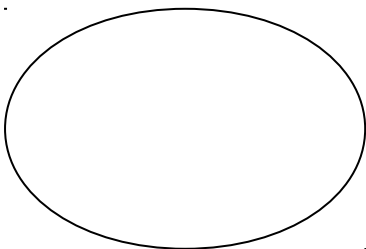
$\sphericalangle$  RTV,  $\sphericalangle$  VTR,  $\sphericalangle$  TVR,  $\sphericalangle$  TRV

b,



$\sphericalangle$  SKP,  $\sphericalangle$  SPK,  $\sphericalangle$  PSK,  $\sphericalangle$  PKS

**Žiakovo hodnotenie vyučovania :**



**Učiteľove postrehy k tvojej práci :**

---



---



---



---



---