

Volám sa _____ Trieda: _____

1. Podčiarkni nesprávne vypočítaný príklad.

$$12 + 3 = 15 \quad 9 + 0 = 0 \quad 15 - 5 = 10 \quad 8 + 2 = 11$$

2. Napíš 3 príklady, ktoré keď vypočítam, dostanem výsledok **20**.

3. Do príkladov doplň správne znamienka.

$$\begin{array}{ccc} 15 & 3 = 12 & 8 & 0 = 8 & 3 & 10 = 13 \\ 12 & 5 = 17 & 20 & 5 = 15 & 6 & 2 = 8 \end{array}$$

4. Nasledujúce čísla usporiadaj od najväčšieho po najmenšie: 16, 9, 13, 1, 8, 19,

5. Ku ktorému príkladu patrí výsledok **13**? Správny príklad zakrúžkuj.

$$12 + 6 \quad 20 - 4 \quad 11 + 3 \quad 20 - 7$$

6. Správne zapísané príklady zakrúžkuj.

$$16 \ 3 \quad 15 \ 7 \quad 8 \ 0 \quad 11 \ 19 \quad 6 \ 5 \quad 9 \ 11$$




7. Prečítaj si slovné úlohy, premysli si ich a zakrúžkuj správnu odpoveď.

A: Pod stromom bolo spadnutých 7 gaštanov. O chvíľu spadli ďalšie 3 gaštany, a potom ešte 2. Teraz je pod stromom:

$$2 \text{ gaštany} \quad 5 \text{ gaštany} \quad 12 \text{ gaštanov}$$

B: Katka mala nasporených 16 eur. Kúpila si knihu za 4 eurá. Teraz jej zostalo:

$$10 \text{ eur} \quad 12 \text{ eur} \quad 20 \text{ eu}$$

8. Nakresli: 5 , 2 , 3 , 1 